

Escola Poligonal

Goiânia, 16 de março de 2020.

Professora: Sandra Gonçalves

Nome: _____ Turma: 3º ano






Transcrever para uma folha avulsa.

Fazer o cabeçalho.

REVISÃO DE MATEMÁTICA

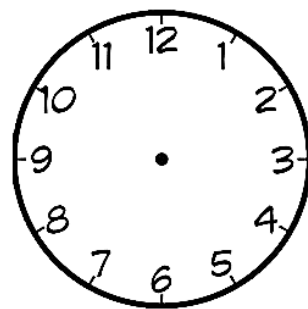
1- Indique que horas está marcando cada relógio.



2- Resolva os problemas abaixo.

A) Cecília saiu de casa às 6:40 h, 15 minutos depois já estava na escola. A que horas ela chegou à escola? Marque no relógio abaixo.

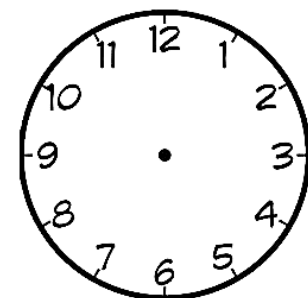
CÁLCULO:



Resposta:

B) Mamãe foi ao mercado às 13:00 h. Depois de 1 h já estava em casa. Marque no relógio o horário que ela chegou em casa.

CÁLCULO:



Resposta:

3- Arme e resolva as adições abaixo:

a) $57+33=$ _____ b) $28+15=$ _____ c) $19+08=$ _____

d) $45+18=$ _____ d) $76+14=$ _____ e) $27+64=$ _____

4- Descubra o segredo e complete a tabela abaixo com atenção.

10		20		30		40		50	
60		70		80		90		100	
110		120		130		140		150	

5- Escreva em nosso sistema de numeração os números dos itens abaixo.

• Quando uma ou mais letras são escritas à **direita** de outra de maior valor, **somamos** esses valores.

• Quando as letras **I**, **X** e **C** são colocados à **esquerda** de outra de maior valor, seus valores são **subtraídos** desse outro valor.

a) V = _____ b) XX = _____ c) X = _____

d) IV = _____ e) IX = _____ f) XXX = _____

6- Desenhe um ábaco para representar cada quantidade.

89 23 45 15 73 09

7- Escolha um dia da semana que você mais gosta e escreva sobre sua rotina, desde a hora que acorda.

Escola Poligonal

Goiânia, 17 de março de 2020.

Professora: Sandra Gonçalves

Nome: _____ Turma: 3º ano



Transcrever para uma folha avulsa.

Fazer o cabeçalho.

REVISÃO DE LÍNGUA PORTUGUESA

1. Leia o texto abaixo e responda as perguntas. Depois ilustre-o.

PÉ DE FLOR

O PASSARINHO
FEZ UM BURAQUINHO
NA PAREDE
DO PRÉDIO DO VIZINHO.

NADA DE VERDE
PRA FAZER SEU NINHO
JUNTO À CAIXA-D'ÁGUA.

TANTO CIMENTO
JÁ LHE DAVA MÁGOA

MAS O VIZINHO
DESCOBRIU O NINHO,
E POS AO LADO
UM PÉ DE FLOR.

O PASSARINHO
COM UM SORRISINHO,
DISSE BAIXINHO:
"OBRIGADO VIZINHO"

MARIA DINORAH- CORAÇÃO DE PAPEL- EDITORA MODERNA

INTERPRETE A POESIA:

1) QUAL É O TÍTULO DA POESIA?

R.: _____

2) QUANTAS ESTROFES TEM A POESIA?

R.: _____

3) QUANTOS VERSOS TEM A POESIA?

R.: _____

4) QUAIS SÃO OS PERSONAGENS DA HISTÓRIA?

R.: _____

5) QUEM FEZ UM BURAQUINHO NO PRÉDIO DO VIZINHO?

R.: _____

6) JUNTO DE QUE O PASSARINHO ESTAVA QUERENDO FAZER SEU NINHO?

R.: _____

2. Ainda sobre a poesia, escreva o nome do autor (a).

3. Pinte com cores diferentes os pares de rimas encontrados na poesia.

4. Sobre os dias da semana responda:

Os dias da semana



domingo
segunda-feira
terça-feira
quarta-feira
quinta-feira
sexta-feira
sábado

Em quais dias da semana temos aula ?

Em quais dias da semana não vamos a escola ?


O que a sua família costuma fazer no final de semana ?

Copie nas linhas abaixo todos os dias da semana.



5. Os meses do ano são:

1. _____
3. _____
5. _____
7. _____
9. _____
11. _____

2. _____
4. _____
6. _____
8. _____
10. _____
12. _____



6. Escreva, na tirinha, onomatopeias onde for adequado. Depois reescreva e dê o significado.



Copyright ©1999 Mauricio de Sousa Produções Ltda. Todos os direitos reservados.

8. Escreva uma adivinha, depois ilustre.

Escola Poligonal

Goiânia, 18 de março de 2020.

Professora: Sandra Gonçalves

Nome: _____ Turma: 3º ano





Transcrever para uma folha avulsa.

Fazer o cabeçalho.

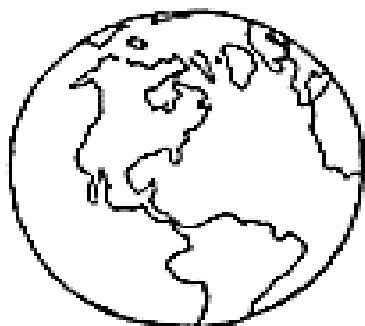
REVISÃO DE CIÊNCIAS

1. Sobre as fases da Lua responda corretamente.



2- Quanto tempo demora aproximadamente um mês lunar?

3. Complete as frases abaixo de acordo com o que você estudou.

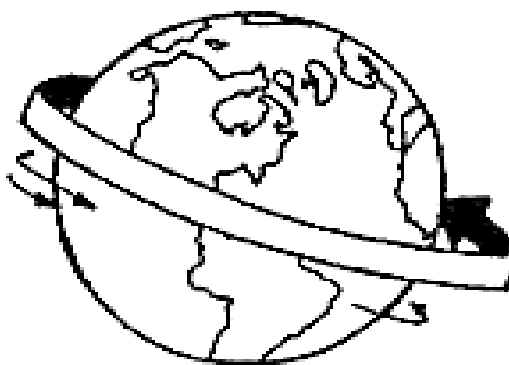


Este é o nosso planeta

.....

A Terra gira em
torno de si mesma,
é o movimento de

.....




A Terra gira ao
redor do Sol, é
o movimento de

.....

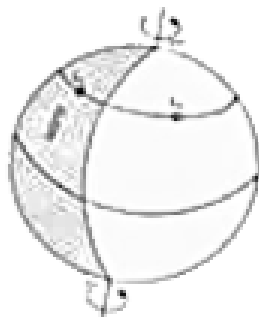


4. Escreva o nome de cada planeta que compõe nosso Sistema Solar.



1.	2.	3.	4.
5.	6.	7.	8.

5. A imagem abaixo é a representação do movimento que a Terra faz em torno de si mesmo. Desenhe o Sol e a Lua em local adequado e depois responda as perguntas.



a. O que esse movimento determina?

b) Quanto tempo a Terra leva para realizar esse movimento?

6. Faça a relação de cada estação do ano com suas características.

Estações do ano

1 Primavera

2 Verão

3 Outono

4 Inverno

() Estação do ano onde vemos muitas flores nos jardins, os passarinhos felizes a cantar e usamos roupas como bermudas e camisetas.

() Estação do ano onde sentimos muito frio e temos que usar roupas como: toca, casaco de lã e meias grossas.


() Estação do ano onde sentimos muito calor, tomamos vários banhos durante o dia e usamos roupas bem frescas.

() Estação do ano onde vemos muitas frutas, que servem para fazermos sucos e vitaminas.

7. O que ocasiona as estações do ano?

8- Enumere e depois colora de acordo com cada estação.

1- PRIMAVERA 2- VERÃO 3- OUTONO 4- INVERNO



9-Marque V se for verdadeiro, e F se for falsa.

- () Um planeta não tem luz própria, mas reflete a luz do sol.
- () A Lua não é o satélite natural da Terra.
- () O movimento de rotação define os dias e as noites.
- () Um mês lunar dura aproximadamente 28 dias.

10- De acordo com os nossos estudos responda.

a) Astros luminosos: _____.

b) Astros iluminados: _____.

c) Planetas gasosos: _____.

d) Planetas rochosos: _____.

Escola Poligonal

Goiânia, 19 de março de 2020.

Professora: Sandra Gonçalves

Nome: _____ Turma: 3º ano




Transcrever para uma folha avulsa.

Fazer o cabeçalho.

REVISÃO DE GEOGRAFIA

1- Observe as imagens e dê as principais características de cada uma delas depois de classifica-las.



Esta é uma paisagem _____




Esta é uma paisagem _____

2-Desenhe uma paisagem natural e uma cultural:

3-Faça o que se pede:

Marque com um x o que tem na zona rural e na zona urbana.

	ZONA URBANA	ZONA RURAL
ESTRADAS DE TERRA		
MUITAS CASAS E PRÉDIOS		
CARROS, ÔNIBUS, CAMINHÕES...		
CASAS SIMPLES		
CARROS DE BOI E CARROÇAS		
GRANDES AVENIDAS		
MUITAS LOJAS		
POUCOS MORADORES		
MUITAS PLANTAÇÕES		
RUAS ASFALTADAS E MOVIMENTADAS		
FUMAÇA DE FABRICAS		
criação de gado		

4- Defina paisagem natural e cite dois exemplos:


5- Defina paisagem cultural e cite dois exemplos:

Transcrever para uma folha avulsa.

Fazer o cabeçalho.

REVISÃO DE HISTÓRIA

1- A imagem abaixo é uma forma de observar... Assinale a resposta certa.



() a casa do tempo. () a passagem do tempo () a vida do tempo.

2- Leia o texto e depois responda:

Nasci no ano de 2010 em Brasília e me mudei para São Paulo no ano de 2015, mesmo ano que minha irmãzinha Joana nasceu. Hoje, dia 12 de março, estou completando 9 anos e estou brincando na praça com os meus vizinhos. No próximo ano, vou mudar de escola para uma mais próxima da minha casa e nas férias de 2021 minha família e eu visitaremos meus avós no Sul do Brasil.



Texto de autoria própria

a) A personagem fala que mora na capital do Brasil. Qual é o nome da capital do Brasil?

b) Quais são lugares de memória que aparecem no texto?

3- Marque **V** para verdadeiro e **F** para falso.

() Ao longo da história, as ruas não sofreram mudanças.

() As ruas são sempre identificadas por números.

() Nas cidades, podem existir lugares que preservam a memória.

() Podemos conhecer muito sobre a história de um local ou de um povo pelos lugares de memória.

4- Indique três pessoas que você costuma encontrar:

- a) Na rua em que você mora=
- b) Em seu bairro=
- c) Na escola=

5- Por que as cidades da Europa eram todas de muros altos?

6- Na sua cidade, como são os muros? Por que você acredita que isso acontece?

7- Volte a página 11 do livro de História e copie o quadro relembrar.

- a)
- b)
- c)